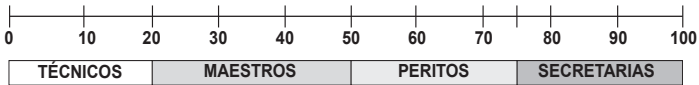


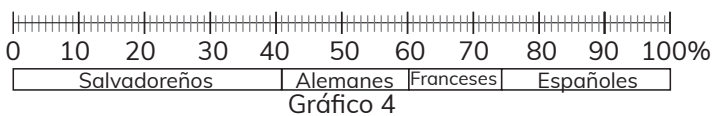
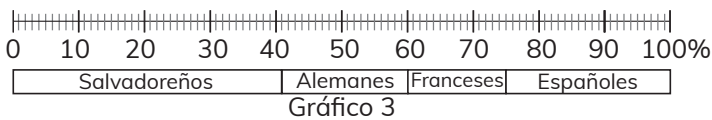
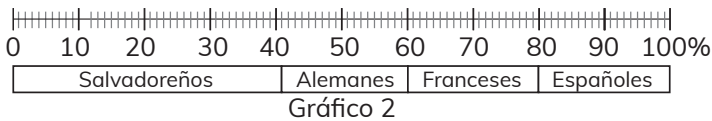
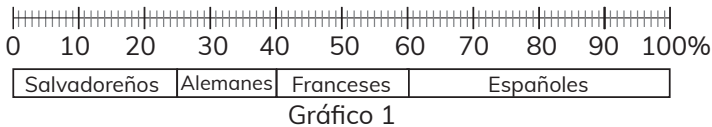
1 La gráfica muestra la profesión de 100 personas, ¿cuántas personas son maestros?



- A. 20
- B. 30
- C. 40
- D. 50

2 A continuación, se brinda la información de turistas que ingresan a Honduras y cuatro gráficos de faja.

Ingreso de turistas a Honduras	Porcentaje (%)
Salvadoreños	40
Alemanes	20
Franceses	15
Españoles	25

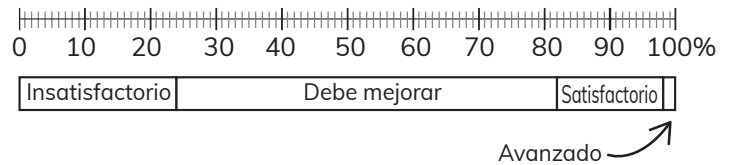


¿Cuál gráfico de faja corresponde a los datos de la tabla?

- A. Gráfico 1
- B. Gráfico 2
- C. Gráfico 3
- D. Gráfico 4

3 En la tabla siguiente se muestra algunos porcentajes de estudiantes por nivel de desempeño en matemáticas de 3<sup>ro</sup>, 6<sup>to</sup>, y 9<sup>no</sup> grado, evaluados en Honduras, en el año 2018, además la representación de los datos en un gráfico de faja.

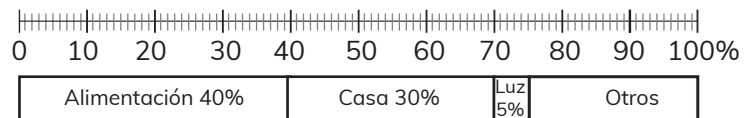
Nivel de desempeño	Porcentaje (%)
Insatisfactorio	24
Debe mejorar	¿?
Satisfactorio	¿?
Avanzado	2



¿Qué porcentaje de estudiantes lograron el nivel de desempeño Debe Mejorar y Satisfactorio respectivamente?

- A. 52 y 17
- B. 58 y 16
- C. 59 y 15
- D. 60 y 14

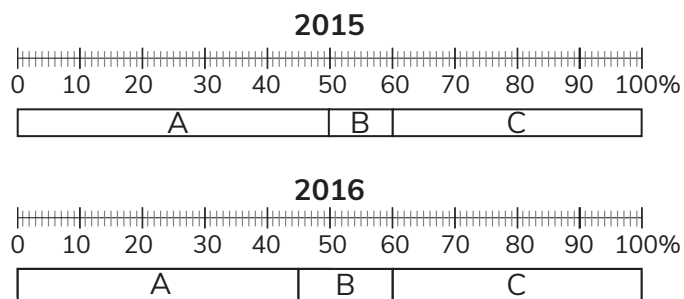
4 El gráfico muestra la distribución de los gastos de un hogar.



¿Qué porcentaje se gasta más en alimentación que en el pago de otros gastos?

- A. 40%
- B. 30%
- C. 25%
- D. 15%

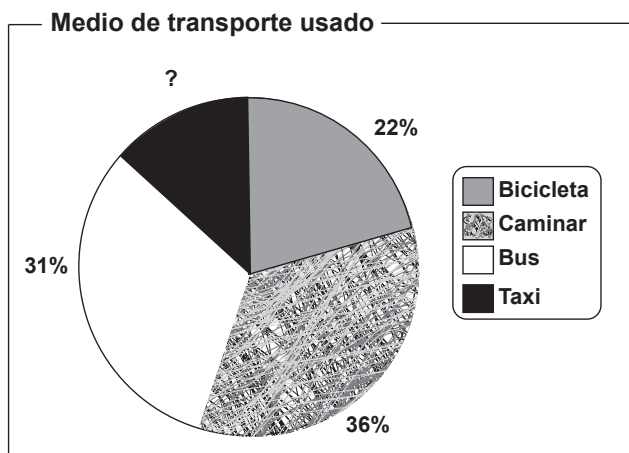
- 5 La visita de turistas en tres zonas A, B y C de Honduras en el 2015 fue de 50,000 personas y en el 2016 aumentó en 20%, los porcentajes de la zonas A y B cambiaron como se muestra en las gráficas siguientes.



¿En cuánto varió la cantidad de turistas en la zona B?

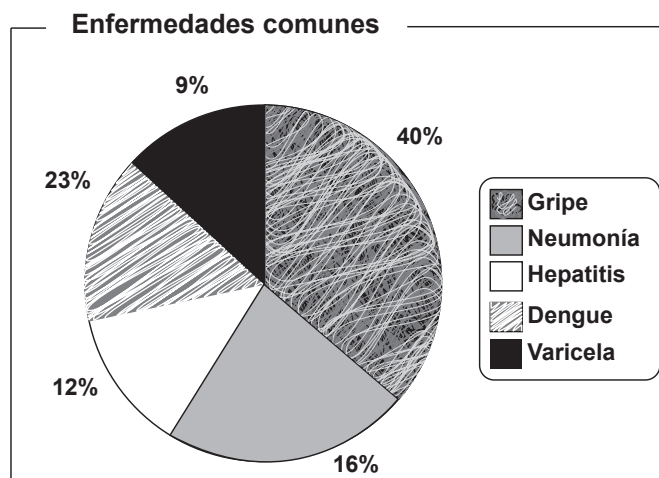
- A. Aumenta en 4 000
- B. Aumenta en 3 000
- C. Disminuye en 4 000
- D. Disminuye en 1 000

- 6 Según la gráfica, ¿qué porcentaje de personas usa el taxi?



- A. 11%
- B. 22%
- C. 31%
- D. 36%

- 7 Según la gráfica, ¿qué porcentaje de personas padece más de gripe que de varicela?

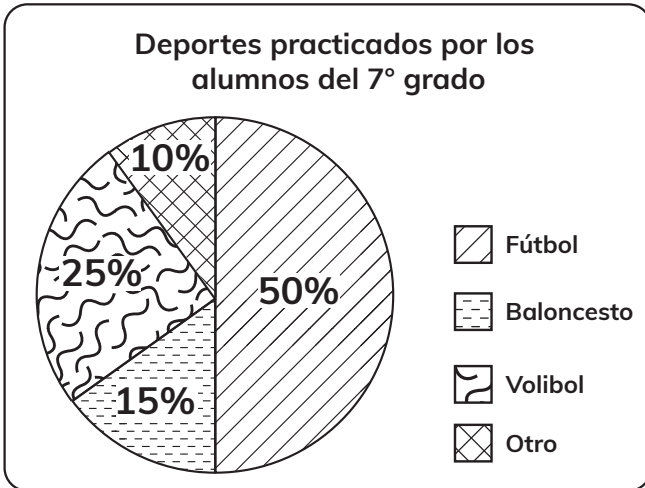


- A. 9%
- B. 31%
- C. 40%
- D. 49%

- 8 A junio de 2017, el mayor mercado de exportación de Honduras fue Europa, región hacia donde se registró un valor exportado de \$941.2 millones, que representa el 37% del total. ¿En un gráfico circular a cuanto equivale la medida del ángulo central de 37%?

- A. 153.20°
- B. 133.20°
- C. 133.00°
- D. 66.60°

9 El siguiente gráfico muestra los deportes que practican los alumnos del séptimo grado.



¿Cuál es la medida del ángulo central de la categoría de Volibol?

- A. 36°
- B. 54°
- C. 90°
- D. 180°

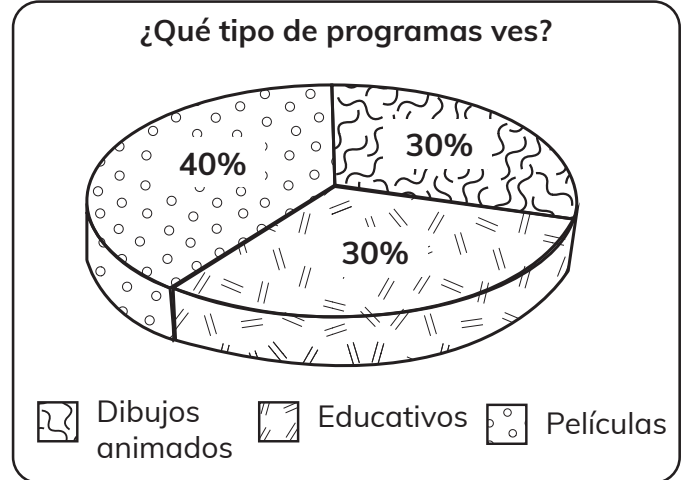
10 La tabla siguiente muestra parte de los votos obtenidos en las elecciones estudiantiles.

Candidato	Votos	%
Miguel	70	20
Sandra		18
José		30
Claudia	77	22
Keyla	35	10
<b>Total</b>	<b>350</b>	<b>100</b>

¿Cuántos votos obtuvieron Sandra y José respectivamente?

- A. 32 y 95
- B. 35 y 90
- C. 63 y 105
- D. 58 y 110

11 Para establecer la influencia violenta que genera los programas televisivos en la conducta del niño, se encuestaron a 70 niños y niñas entre las edades de 5 y 6 años con sus respectivos padres de familia. El gráfico siguiente muestre los resultados obtenidos en una de sus preguntas.



¿Cuántos niños y niñas contestaron que miran dibujos animados y películas?

- A. 21
- B. 30
- C. 40
- D. 49