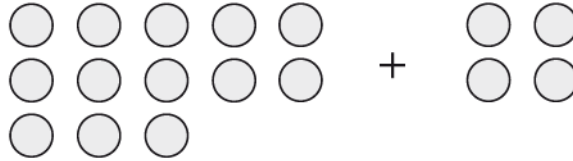


AGOSTO

1. ¿Cuánto es $13 + 4$? Rellene el círculo de la letra que corresponde a la respuesta correcta.

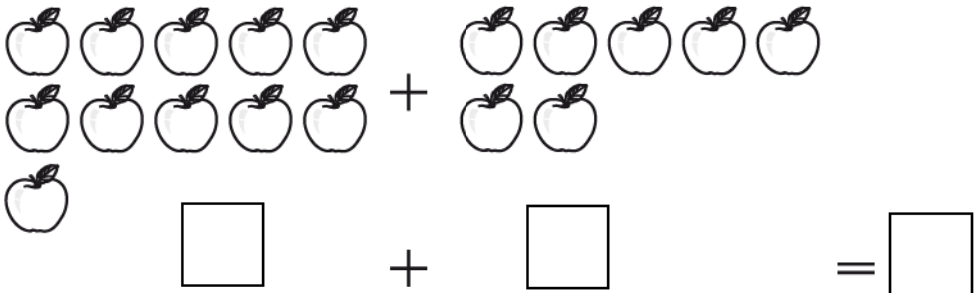
- A. 15
- B. 16
- C. 17
- D. 18




2. ¿Cuánto es $11 + 7$? Rellene el círculo de la letra que corresponde a la respuesta correcta.

- A. 13
- B. 15
- C. 16
- D. 18

3. ¿Cuántas manzanas hay? Escriba los números en los cuadros.



4. ¿Cuántas caritas hay en total? Escriba los números en los cuadros.



5. ¿Qué número falta en el cuadro? Rellene el círculo de la letra que corresponde a la respuesta correcta.

- A. 3
- B. 5
- C. 13
- D. 14

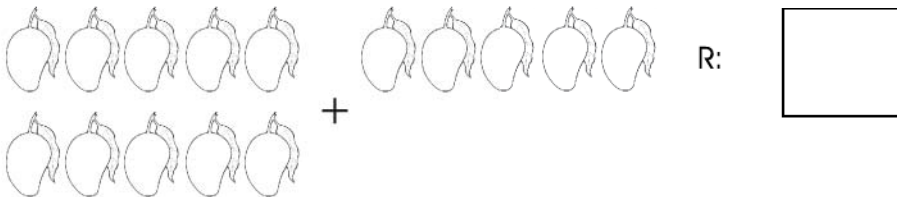
$$\boxed{?} + 5 = 18$$

6. ¿Qué número falta en el cuadro? Rellene el círculo de la letra que corresponde a la respuesta correcta.

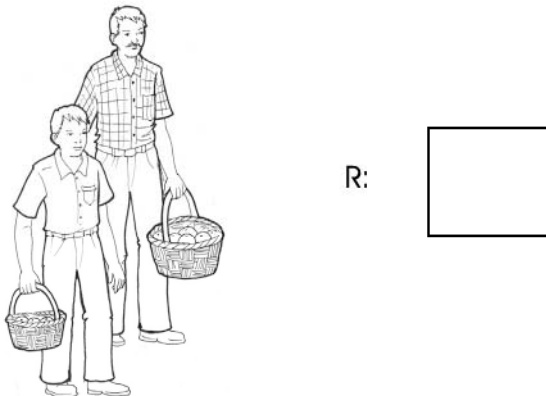
- A. 2
- B. 3
- C. 12
- D. 13

$$15 + \boxed{?} = 17$$

7. Pedro y Suyapa fueron a cortar mangos. Pedro cortó 5 mangos y Suyapa cortó 10. ¿Cuántos mangos tienen entre los dos?




8. Roberto compró 5 naranjas y su tío compró 14. ¿Cuántas naranjas compraron entre los dos?




9. ¿Cuánto es $18 - 9$? Rellene el círculo de la letra que corresponde a la respuesta correcta.

- A. 8
- B. 9
- C. 10
- D. 11



10. ¿Cuánto es $13 - 8$? Rellene el círculo de la letra que corresponde a la respuesta correcta.

- A. 4
- B. 5
- C. 6
- D. 7



11. ¿Qué número falta en el cuadro? Rellene el círculo de la letra que corresponde a la respuesta correcta.

- A. 2
- B. 4
- C. 12
- D. 14

$$\boxed{?} - 8 = 4$$

12. ¿Qué número falta en el cuadro? Rellene el círculo de la letra que corresponde a la respuesta correcta.

- A. 3
- B. 7
- C. 13
- D. 17

$$15 - \boxed{?} = 8$$

13. ¿Cuánto es $12 - 7$? Rellene el círculo de la letra que corresponde a la respuesta correcta.


- A. 5
- B. 8
- C. 9
- D. 7

14. Juan tenía 12 naranjas y regaló 8. ¿Cuántas naranjas le quedaron? Rellene el círculo de la letra que corresponde a la respuesta correcta.

- A. 4
- B. 6
- C. 14
- D. 20



15. María tenía 16 pollitos y vendió 9. ¿Cuántos pollitos le quedaron? Escriba el número en el cuadro.




R:

16. Carlos tenía 12 mables y perdió 5 jugando con su amiga Maribel. ¿Cuántos mables le quedaron a Carlos? Escriba el número en el cuadro.



R:

17. Sara tenía 13 conejos y vendió 5. ¿Cuántos conejos le quedaron?
Escriba el número en el cuadro.



R:

FIN DE LA PRUEBA

Tabla de resultados de la prueba
Agosto - Primer grado

Insatisfactorio	Debe Mejorar	Satisfactorio	Avanzado
0 - 22	23 - 31	32 - 41	42 - 51
<input type="radio"/>	<input type="radio"/>	<input type="radio"/>	<input type="radio"/>