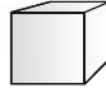



SEPTIEMBRE

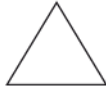
1. Marque con una cruz la figura que representa la cara de la caja.



A.



B.



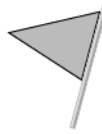
C.




D.



2. Marque con una cruz la figura que representa la cara del banderín.



A.




B.



C.

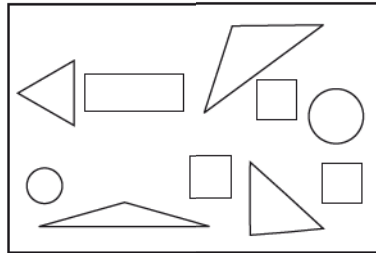


D.




3. ¿Cuántos triángulos hay en el dibujo? Rellene el círculo de la letra que corresponde a la respuesta correcta.

- A. 1
- B. 2
- C. 3
- D. 4




4. ¿Cuántos círculos hay en la figura? Rellene el círculo de la letra que corresponde a la respuesta correcta.

- A. 2
- B. 3
- C. 6
- D. 5

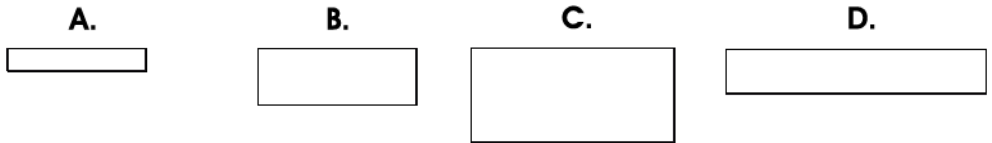


5. ¿Cuántos cuadrados hay en la figura? Rellene el círculo de la letra que corresponde a la respuesta correcta.

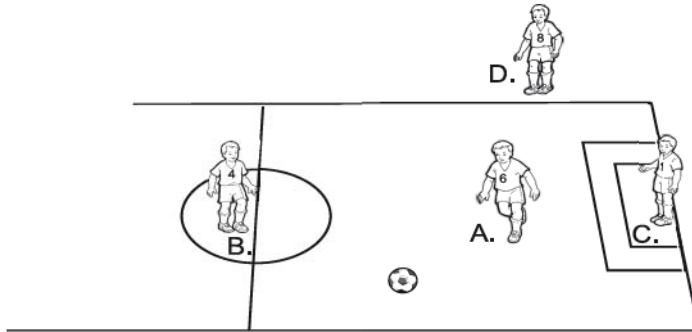
- A. 1
- B. 2
- C. 3
- D. 4



6. Marque con una cruz el rectángulo más largo.

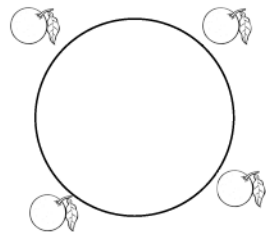
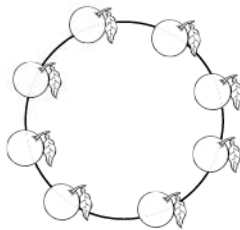
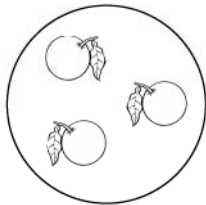


7. Marque con una cruz el niño que está en el interior del círculo.

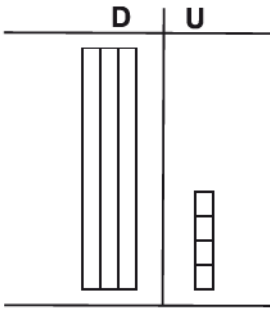


8. ¿Cuántas naranjas están en el borde del círculo?

- A. 4
- B. 3
- C. 8
- D. 7



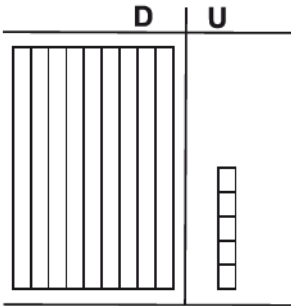
9. ¿Cuál es el número representado en la tabla?



R:



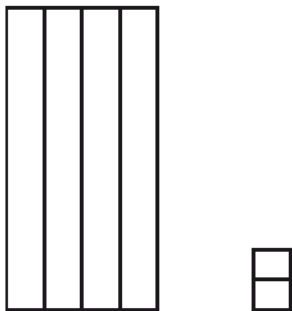
10. ¿Cuál es el número representado en la tabla?



R:



11. ¿Cuál es el número representado por la figura?



R:

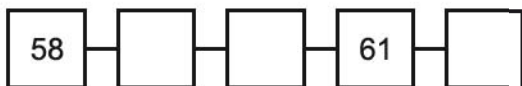


decenas



unidades

12. Escriba los números que faltan en los cuadros.



13. Escriba los números que faltan en los cuadros.



14. Escriba los números que faltan en los cuadros.



FIN DE LA PRUEBA

Tabla de resultados de la prueba
Septiembre - Primer grado

Insatisfactorio	Debe Mejorar	Satisfactorio	Avanzado
0 - 18	20 - 26	27 - 35	36 - 42
○	○	○	○