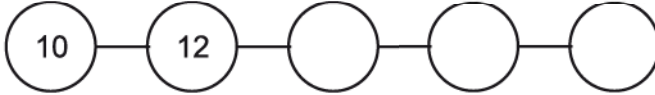
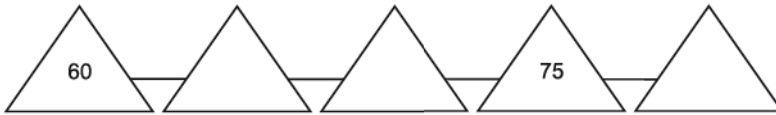


OCTUBRE Y NOVIEMBRE

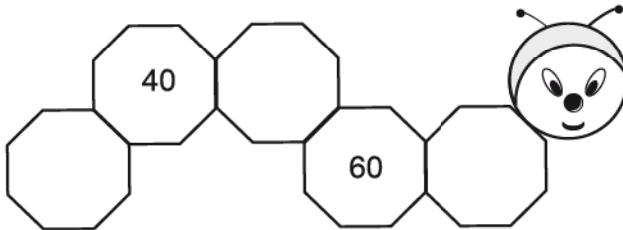
1. Escriba los números que faltan contando de 2 en 2.




2. Escriba los números que faltan contando de 5 en 5.



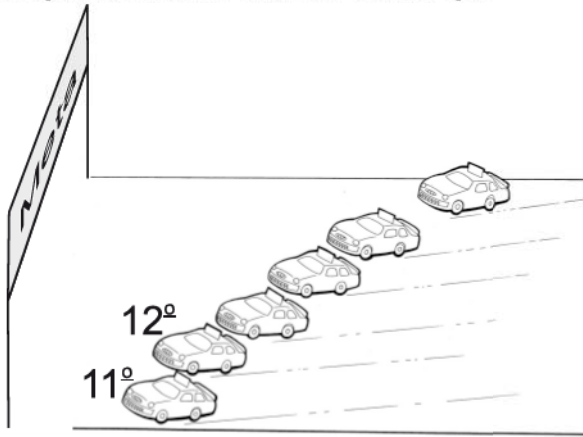
3. Escriba los números que faltan contando de 10 en 10.




4. Marque con una cruz el niño que está en la décima posición.



5. Marque con una cruz el carro que está en la décimo cuarta posición.



6. Escriba el número ordinal que falta en el cuadro.



7. Marque con una cruz el grupo de monedas que equivale a un lempira.

A.



B.



C.



D.



8. Manuel cambió un lempira por 5 monedas iguales. ¿Cuánto vale cada moneda? Marque con una cruz la moneda correcta.



9. ¿Cuántos billetes de 5 lempiras hay en un billete de 20 lempiras? Rellene el círculo de la letra que corresponde a la respuesta correcta.

- A. 2
- B. 4
- C. 5
- D. 6

10. ¿Qué cantidad de dinero hay en la colección? Rellene el círculo de la letra que corresponde a la respuesta correcta.

- A. 27
- B. 32
- C. 37
- D. 42



11. ¿Cuánto dinero hay? Escriba su respuesta en los cuadros.



L.


C.

12. ¿Cuánto dinero hay? Escriba su respuesta en los cuadros.



L. C.

13. ¿Cuánto dinero hay? Escriba su respuesta en los cuadros.



L. C.

14. ¿Cuánto dinero hay? Escriba su respuesta en los cuadros.



L. C.

FIN DE LA PRUEBA

**Tabla de resultados de la prueba
Octubre y noviembre - Primer grado**

Insatisfactorio	Debe Mejorar	Satisfactorio	Avanzado
0 - 16	19 - 26	27 - 35	36 - 42
○	○	○	○