

FEBRERO Y MARZO

Instrucciones:

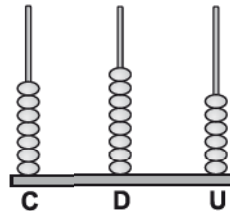
Responda las preguntas rellinando el círculo de la letra que corresponde a la respuesta correcta.

1. ¿Cómo se escribe el número trescientos ochenta y cinco?

- A. 365
- B. 375
- C. 385
- D. 395

2. ¿Qué número se representa en la figura?

- A. 678
- B. 687
- C. 768
- D. 786



3. ¿Cuál es el número que representa el dibujo?

- A. 432
- B. 423
- C. 243
- D. 234

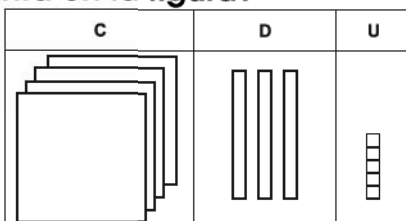


4. ¿Cómo se escribe el número quinientos siete?

- A. 507
- B. 570
- C. 705
- D. 57

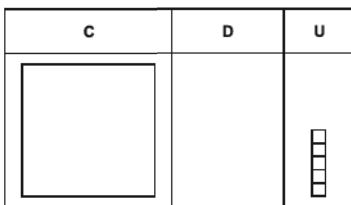
5. ¿Qué número se representa en la figura?

- A. 543
- B. 534
- C. 453
- D. 435



6. ¿Qué número se representa en la figura?

- A. 15
- B. 51
- C. 105
- D. 501



7. ¿Qué número tiene 2 centenas y 5 unidades?

- A. 25
- B. 52
- C. 205
- D. 250

8. ¿Qué número tiene 3 centenas, 6 decenas y 5 unidades?

- A. 356
- B. 365
- C. 635
- D. 653

9. ¿Qué número está entre 152 y 160?

- A. 168
- B. 164
- C. 157
- D. 150

10. ¿Qué número está antes de 499?

- A. 498
 B. 499
 C. 500
 D. 598

11. ¿Qué número es mayor que 524?

- A. 319
 B. 425
 C. 519
 D. 625

12. ¿Qué número corresponde a ?

- A. 2
 B. 5
 C. 6
 D. 9

$$34 \text{ } < 345$$

13. ¿Qué número corresponde a ?

- A. 2
 B. 4
 C. 6
 D. 8

$$775 < 7 \text{ } 3$$

14. Escriba los números que hacen falta:

441, _____, _____, _____, _____, 446

FIN DE LA PRUEBA

Tabla de resultados de la prueba
Febrero y marzo - Segundo grado

Insatisfactorio	Debe Mejorar	Satisfactorio	Avanzado
0 - 18	19 - 26	27 - 35	36 - 42
<input type="radio"/>	<input type="radio"/>	<input type="radio"/>	<input type="radio"/>