

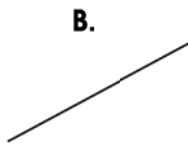
ABRIL

Instrucciones:

Responda las preguntas rellenando el círculo de la letra que corresponde a la respuesta correcta.

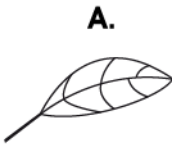
1. ¿Cuál es el segmento de línea recta?

- A.
- B.
- C.
- D.



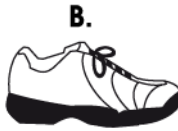
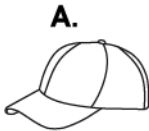
2. ¿Qué figura tiene segmentos de línea recta?

- A.
- B.
- C.
- D.



3. ¿Qué figura tiene segmentos de línea recta?

- A.
- B.
- C.
- D.



4. ¿Cuál es el resultado de $23 + 8$?

- A. 21
- B. 31
- C. 103
- D. 238

5. ¿Cuál es el resultado de $58 + 35$?

P.O. _____

R: _____

6. ¿Cuál es el resultado de $76 + 8$?

- A. 74
- B. 84
- C. 156
- D. 768

7. Suyapa compró una caja de colores por 15 lempiras y una regla por 7 lempiras. ¿Cuánto gastó en total?

- A. 8
- B. 12
- C. 22
- D. 85

8. Daniel tenía 35 lempiras. Su mamá le regaló 6 lempiras. ¿Cuánto dinero tiene Daniel en total?

P.O. _____

R: _____

9. Juan y María cortaron ciruelas. Juan cortó 27 y María 45. ¿Cuántas ciruelas cortaron en total?

P.O. _____

R: _____

10. ¿Cuál es el número que falta en el cuadro?

- A. 4
- B. 3
- C. 2
- D. 1

$$\begin{array}{r} \boxed{?} 3 \\ + 47 \\ \hline 60 \end{array}$$

11. ¿Cuál es el número que falta en el cuadro?

- A. 0
- B. 2
- C. 4
- D. 8

$$\begin{array}{r} 3 \boxed{?} \\ + 46 \\ \hline 78 \end{array}$$

12. ¿Cuál es el número que falta en el cuadro?

- A. 3
- B. 4
- C. 1
- D. 0

$$\begin{array}{r} 80 \\ + \boxed{?} 4 \\ \hline 94 \end{array}$$

13. ¿Cuál es el número que falta en el cuadro?

- A. 3
- B. 4
- C. 6
- D. 8

$$\begin{array}{r} 3 \boxed{?} \\ + 57 \\ \hline 91 \end{array}$$

FIN DE LA PRUEBA

Tabla de resultados de la prueba
Abril - Segundo grado

Insatisfactorio	Debe Mejorar	Satisfactorio	Avanzado
0 - 16	17 - 23	24 - 32	33 - 39
<input type="radio"/>	<input type="radio"/>	<input type="radio"/>	<input type="radio"/>