

MAYO

Instrucciones:

Responda las preguntas rellenando el círculo de la letra que corresponde a la respuesta correcta.

1. ¿Cuál es el resultado de $24 - 6$?

- A.** 17
- B.** 18
- C.** 22
- D.** 28

2. ¿Cuál es el resultado de $54 - 17$?

- A.** 37
- B.** 40
- C.** 43
- D.** 71

3. ¿Cuál es el resultado de $30 - 8$?

- A.** 22
- B.** 30
- C.** 32
- D.** 38

4. Mario hizo 25 galletas y vendió 19. ¿Cuántas galletas le quedaron?

P.O. _____

R: _____

5. Santos cosechó 70 melones, vendió 32. ¿Cuántos melones le quedaron?

P.O. _____

R: _____

6. Ramón tenía 40 litros de leche y utilizó 25 litros para hacer queso. ¿Cuántos litros de leche le quedaron?

P.O. _____

R: _____

7. Maribel tenía 15 lempiras. Su papá le regaló 7 lempiras. Compró un juguete que le costó 18 lempiras. ¿Cuántos lempiras le quedan a Maribel?

- A. 40
- B. 22
- C. 14
- D. 4

8. Miguel tiene 6 mables. Su mamá le regala 8, pero él pierde 3 mables jugando. ¿Cuántos mables tiene en total Miguel?

P.O. _____

R: _____

9. El lunes María ahorró 5 lempiras, el martes 3 lempiras y el miércoles 7 lempiras. ¿Cuánto ahorró María en los 3 días?

P.O. _____

R: _____

10. En un árbol había 19 pericos y llegaron 7 más, luego se fueron 8. ¿Cuántos quedaron en el árbol?

P.O. _____

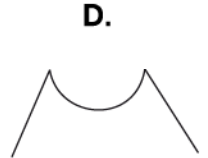
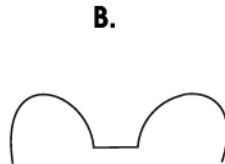
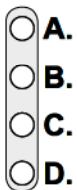
R: _____

11. En el bus escolar se transportaban 8 niños. En una estación se subieron 9 y en otra estación se bajaron 2. ¿Cuántos niños quedaron en total en el bus?

P.O. _____

R: _____

12. ¿Cuál es una línea quebrada?



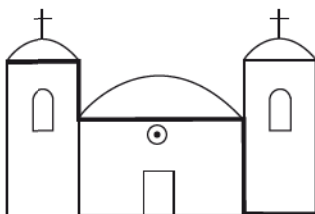
13. ¿Cómo se llama la línea gruesa que muestra el dibujo?

- A. Línea quebrada
- B. Línea mixta
- C. Línea curva
- D. Línea recta



14. ¿Cómo se llama la línea gruesa que muestra el dibujo?

- A. Línea quebrada
- B. Línea mixta
- C. Línea curva
- D. Línea recta



FIN DE LA PRUEBA

Tabla de resultados de la prueba
Mayo - Segundo grado

Insatisfactorio	Debe Mejorar	Satisfactorio	Avanzado
0 - 18	19 - 26	27 - 35	36 - 42
<input type="radio"/>	<input type="radio"/>	<input type="radio"/>	<input type="radio"/>