

JULIO

Instrucciones:

Responda las preguntas rellenando el círculo de la letra que corresponde a la respuesta correcta.

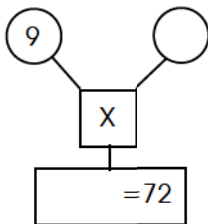
1. ¿Con qué número hay que multiplicar los números de la primera columna para obtener los de la segunda?

- A. 8
 B. 7
 C. 6
 D. 5

\otimes	\rightarrow	<input style="width: 30px; height: 20px;" type="text"/>
\downarrow		
3	21	
5	35	
6	42	
8	56	

2. ¿Cuál es el número que hace falta en el círculo para que el resultado sea 72?

- A. 6
 B. 7
 C. 8
 D. 9



3. ¿Cuál es el número que hace falta en el cuadro para que $\square \times 8 = 64$?

- A. 6
 B. 7
 C. 8
 D. 9

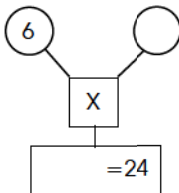
4. ¿Con qué número hay que multiplicar los números de la primera columna para obtener los de la segunda?

- A. 5
- B. 6
- C. 7
- D. 8

(X) →	
↓	
2	16
3	24
5	40
6	48

5. ¿Cuál es el número que hace falta en el círculo para que el resultado sea 24?

- A. 3
- B. 4
- C. 5
- D. 6



6. ¿Cuál multiplicación da como resultado 48?

- A. 6×9
- B. 6×8
- C. 6×6
- D. 6×7

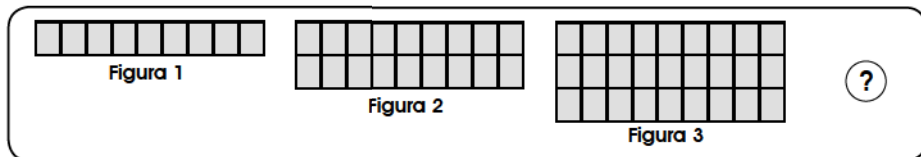
7. ¿Con qué número hay que multiplicar los datos de la columna A para obtener los de la columna B?

- A. 6
- B. 7
- C. 8
- D. 9

Columna A	Columna B
1	→ 8
3	→ 24
5	→ 40
8	→ 64

8. Las figuras dadas representan una tabla de multiplicación. ¿Cuántos cuadros tendrá la figura?

- A. 32
- B. 36
- C. 40
- D. 44



9. ¿Cuál es el número que hace falta en el cuadro para que $7 \times \square = 7$?

- A. 11
- B. 10
- C. 1
- D. 0

10. En segundo grado hay 9 niños. Para dar 3 confites a cada uno, ¿cuántos confites se necesitan?

- A. 24
- B. 27
- C. 28
- D. 32

11. Marlon vendió 6 melones a 6 lempiras cada uno. ¿Cuánto dinero obtuvo en total?

P.O. _____

R: _____

12. Lidia ahorra 9 lempiras semanales. ¿Cuánto ahorra en 4 semanas?

P.O. _____

R: _____

13. Hay 4 equipos de 7 integrantes cada uno. ¿Cuántas personas hay en total?

P.O. _____

R: _____

14. Fredy tiene 5 bolsas. En cada bolsa hay 9 ciruelas. ¿Cuántas ciruelas hay en total?

P.O. _____

R: _____

FIN DE LA PRUEBA

**Tabla de resultados de la prueba
Julio - Segundo grado**

Insatisfactorio	Debe Mejorar	Satisfactorio	Avanzado
0 - 18	19 - 26	27 - 35	36 - 42
<input type="radio"/>	<input type="radio"/>	<input type="radio"/>	<input type="radio"/>