

AGOSTO

Instrucciones:

Responda las preguntas rellenando el círculo de la letra que corresponde a la respuesta correcta.

1. ¿Cuál es el resultado de $3\text{ m } 55\text{ cm} - 2\text{ m } 37\text{ cm}$?

m	(dm)	cm

R: _____

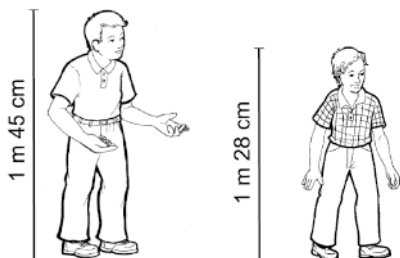
2. ¿Cuál es el resultado de $2\text{ m } 58\text{ cm} + 3\text{ m } 36\text{ cm}$?

- A. 5 m 84 cm
- B. 5 m 94 cm
- C. 6 m 84 cm
- D. 6 m 94 cm

3. ¿Cuál es el resultado de $6\text{ m } 70\text{ cm} - 3\text{ m } 17\text{ cm}$?

- A. 9 m 87 cm
- B. 9 m 57 cm
- C. 3 m 63 cm
- D. 3 m 53 cm

4. César mide $1\text{ m } 45\text{ cm}$ y Ricardo $1\text{ m } 28\text{ cm}$. ¿Cuántos centímetros más que Ricardo mide César?




m	(dm)	cm

5. Sofía medía 1 m 59 cm el año pasado. Ha crecido 12 cm desde entonces. ¿Cuánto mide Sofía hoy?

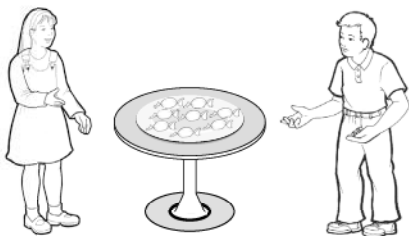
P.O. _____

R: _____



6. Se desea repartir 8 confites en partes iguales entre dos niños. ¿Cuántos le tocan a cada uno?

- A. 2
- B. 4
- C. 5
- D. 8



7. Se desea repartir 18 globos en partes iguales entre 3 niños, ¿cuántos le tocan a cada uno?

- A. 9
- B. 6
- C. 4
- D. 3



8. ¿Cuánto es $48 \div 6$?

- A. 6
- B. 7
- C. 8
- D. 9

9. ¿Cuánto es $54 \div 9$?

- A. 5
- B. 6
- C. 7
- D. 8

10. ¿Cuánto es $36 \div 4$?

- A. 4
- B. 6
- C. 8
- D. 9

11. Daniel repartió 15 mangos en partes iguales entre sus 3 hermanos.
¿Cuántos mangos le dio a cada uno?

- A. 6
- B. 5
- C. 3
- D. 2

12. Miriam quiere repartir 18 confites en partes iguales a sus 9 alumnos.
¿Cuántos confites le dará a cada uno?

P.O. _____

R: _____

13. Suyapa tiene 28 naranjas y las quiere colocar en partes iguales, en 7 bolsas. ¿Cuántas naranjas colocará en cada bolsa?

P.O. _____

R: _____

14. Ramón tiene 45 mangos y desea colocarlos, en partes iguales, en 5 canastas. ¿Cuántos mangos colocará en cada canasta?

P.O. _____

R: _____

15. Ana tiene 56 mables y quiere repartirlos entre 8 niños en partes iguales. ¿Cuántos mables le corresponden a cada niño?

P.O. _____

R: _____

FIN DE LA PRUEBA

**Tabla de resultados de la prueba
Agosto - Segundo grado**

Insatisfactorio	Debe Mejorar	Satisfactorio	Avanzado
0 - 19	20 - 29	30 - 38	39 - 42
<input type="radio"/>	<input type="radio"/>	<input type="radio"/>	<input type="radio"/>