

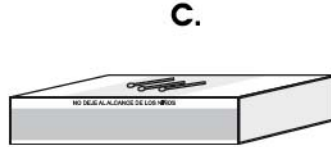
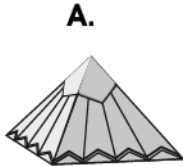
SEPTIEMBRE

Instrucciones:

Responda las preguntas rellorando el círculo de la letra que corresponde a la respuesta correcta.

1. ¿Cuál es un sólido regular?

- A.
- B.
- C.
- D.

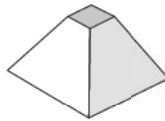


2. Marque con una cruz la figura que representa un cubo

A.



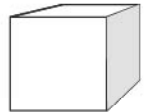
B.



C.




D.



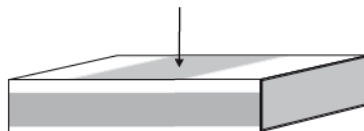
3. ¿Qué elemento indica la flecha?

- A. Arista
- B. Superficie
- C. Vértice
- D. Cara




4. ¿Qué elemento indica la flecha?

- A. Arista
- B. Superficie
- C. Vértice
- D. Punto



5. ¿Qué elemento indica la flecha?

- A. Arista
- B. Superficie
- C. Vértice
- D. Punto

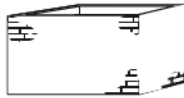


6. Marque con una cruz el sólido que tiene superficie curva

A.



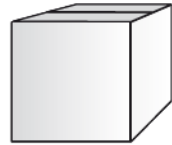
B.



C.



D.



7. Carlos tenía L. 10. Compró una galleta que le costó L. 3. ¿Cuánto dinero le sobró?

- A. L. 6
- B. L. 7
- C. L. 13
- D. L. 17

8. Dunia ganó 35 lempiras el lunes y 55 lempiras el martes. ¿Cuánto dinero ganó en total?

P.O. _____

R: _____

9. Alberto tiene 28 lempiras 25 centavos y Yessenia 31 lempiras 50 centavos. ¿Cuánto dinero tienen entre los dos?

P.O.

10 L	1 L	10 C	1 C

R: _____

10. Judith ahorró 54 lempiras 75 centavos y Sara 30 lempiras 20 centavos. ¿Cuánto dinero ahorraron entre las dos?

P.O.

10 L	1 L	10 C	1 C

R: _____

11. Paola recibe 25 lempiras el sábado, 30 lempiras el domingo y 20 lempiras el lunes. ¿Cuánto tiene Paola en total?

P.O. _____

R: _____

12. Mario tenía 96 lempiras. El lunes gastó 25 lempiras y el martes gastó 30. ¿Cuánto dinero le quedó?

P.O. _____

R: _____







13. Para hacer horchata se necesita comprar azúcar, arroz y canela.
Haga el plan de compra

 Azúcar 5 lempiras	 Arroz 8 lempiras
 Canela 1 lempira	 Manteca 6 lempiras
 Sal 1 lempira 50 centavos	

Plan de compra

Producto	Costo
Total	







14. ¿Cuánto dinero necesita José para comprar una piña y una naranja?

 1 lempira	 6 lempiras	 20 lempiras
 50 centavos	 12 lempiras	 3 lempiras

P.O. _____

R: _____

15. ¿Cuánto dinero necesita el papá de María para comprar una caja de crayones, una mochila y un cuaderno?

 60 lempiras	 3 lempiras	 12 lempiras
 3 lempiras 50 centavos	 5 lempiras	 1 lempira 50 centavos







P.O. _____

R: _____

16. Doña Juliana compró un trompo, un barquito, una muñeca y un yoyo. ¿Cuánto dinero gastó?

P.O. _____

R: _____

 6 lempiras	 12 lempiras 30 centavos	 20 lempiras 50 centavos
 8 lempiras	 10 lempiras	 10 lempiras 30 centavos

FIN DE LA PRUEBA

Tabla de resultados de la prueba
Septiembre - Segundo grado

Insatisfactorio	Debe Mejorar	Satisfactorio	Avanzado
0 - 21	22 - 30	31 - 41	42 - 48
<input type="radio"/>	<input type="radio"/>	<input type="radio"/>	<input type="radio"/>