

ABRIL**Instrucciones:**

Responda las preguntas rellinando el círculo de la letra que corresponde a la respuesta correcta.

1. En el vivero escolar, los niños sembraron 120 semillas de pino y 30 semillas de roble. ¿Para saber cuántas semillas sembraron en total, qué operación se debe realizar?

- A. $120 - 30$
 B. $120 + 30$
 C. 120×30
 D. $120 \div 30$

2. En una escuela hay 382 libros de Matemáticas y 204 de Español, ¿cuántos libros hay en total?

P.O. _____

R: _____

3. En una escuela hay 113 niñas y 82 niños, ¿cuántos niños y niñas hay en total?

- A. 31
 B. 195
 C. 295
 D. 933

4. En una ciudad hay tres escuelas. En la primera hay 376 pupitres, en la segunda 245 y en la tercera 128 pupitres. ¿Cuántos pupitres hay en total?

P.O. _____

R: _____

5. ¿Cuál es el resultado de $700 - 200$?

- A. 200
 B. 300
 C. 500
 D. 900

6. ¿Cuál es el resultado de $326 - 232$?

- A. 14
 B. 94
 C. 114
 D. 194

7. ¿Cuál sustracción da como resultado 980?

- A. $970 - 10$
 B. $970 - 20$
 C. $990 - 10$
 D. $980 - 10$

8. ¿Cuál es el resultado de $564 - 52$?

- A. 40
 B. 44
 C. 412
 D. 512

9. Encuentre el resultado de $700 - 256$

R: _____

10. La mamá de Miguel está leyendo un libro de 460 páginas. Si ha leído 400 páginas hasta hoy, ¿cuántas páginas le quedan por leer?

- A. 100
- B. 80
- C. 60
- D. 40

11. Juan lleva 298 libras de maíz al mercado y vende 145 libras, ¿cuántas libras le quedan a Juan?

P.O. _____

R: _____

12. José produce 984 sacos de café y María 787 sacos de café, ¿cuánto más produce José que María?

P.O. _____

R: _____

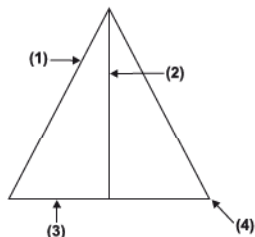
13. Suyapa cosechó 563 sandías y vendió 279, ¿cuántas sandías le quedan?

P.O. _____

R: _____

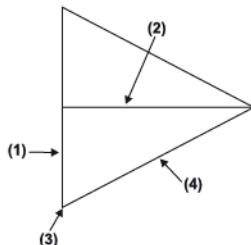
14. ¿Qué elemento señala la flecha 4?

- A. Vértice
- B. Lado
- C. Base
- D. Altura



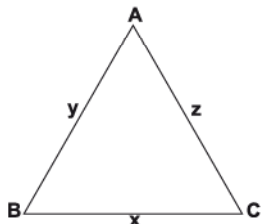
15. ¿Qué elemento señala la flecha 2?

- A. Vértice
- B. Lado
- C. Base
- D. Altura



16. En el triángulo, x, y, z señalan los lados. ¿Cuál es el lado opuesto a B?

- A. x
- B. z
- C. A
- D. C



17. Dibuje un triángulo equilátero y señale cada uno de sus elementos.

FIN DE LA PRUEBA

**Tabla de resultados de la prueba
Abril - Tercer grado**

Insatisfactorio	Debe Mejorar	Satisfactorio	Avanzado
0 - 22	23 - 32	33 - 44	45 - 51
<input type="radio"/>	<input type="radio"/>	<input type="radio"/>	<input type="radio"/>