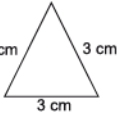
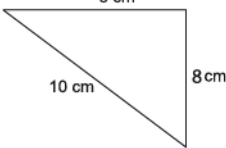
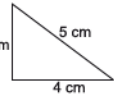
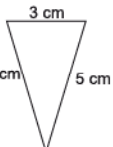


MAYO

Instrucciones:

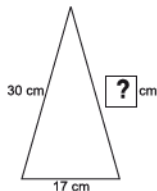
Responda las preguntas relleno el círculo de la letra que corresponde a la respuesta correcta.

1. ¿Cuál triángulo es escaleno?

- A. 
- B. 
- C. 
- D. 

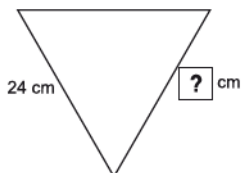
2. En el triángulo isósceles, ¿qué número debe escribirse en el cuadro?

- A. 34
- B. 30
- C. 47
- D. 13



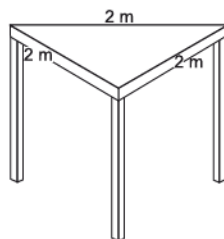
3. En el triángulo equilátero, ¿qué número debe escribirse en el cuadro?

- A. 12
- B. 48
- C. 24
- D. 36

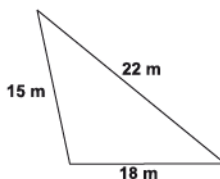


4. ¿Cuál es el perímetro de la mesa?

- A. 2 m
- B. 4 m
- C. 6 m
- D. 8 m



5. Se quiere cercar un terreno con las medidas que se indican, ¿cuántos metros de alambre de malla se necesitan?



P.O. _____

R: _____

6. Un pañuelo tiene forma de triángulo equilátero. Si cada lado mide 35 cm, ¿cuántos centímetros se necesitan para cubrir su borde?

P.O. _____

R: _____

7. ¿Cuál de las operaciones es correcta?

- A. $50 \times 7 = 350$
- B. $40 \times 7 = 210$
- C. $30 \times 7 = 250$
- D. $60 \times 7 = 400$

8. Encuentre el resultado de 791×6 .

R: _____

9. ¿Cuál es el resultado de 2317×3 ?

- A. 2630
- B. 6942
- C. 6931
- D. 6951

10. Encuentre el resultado de 786×8 .

P.O. _____

R: _____

11. ¿Cuál es el resultado de 70×8 ?

- A. 48
- B. 56
- C. 480
- D. 560

12. ¿Cuál es el resultado de 1000×7 ?

- A. 8000
- B. 7000
- C. 1007
- D. 1000

13. ¿Cuál es el resultado de 3040×3 ?

R: _____

14. ¿Cuál es el resultado de 430×2 ?

R: _____

FIN DE LA PRUEBA

Tabla de resultados de la prueba
Mayo - Tercer grado

Insatisfactorio	Debe Mejorar	Satisfactorio	Avanzado
0 - 18	19 - 26	27 - 35	36 - 42
<input type="radio"/>	<input type="radio"/>	<input type="radio"/>	<input type="radio"/>