

JULIO**Instrucciones:**

Responda las preguntas relleno el círculo de la letra que corresponde a la respuesta correcta.

1. Andrés tiene 145 galletas. Reparte 5 galletas a cada niño, ¿entre cuántos niños se reparten las galletas?

P.O. _____

R: _____

2. Con 312 lempiras se compraron 6 camisetas, ¿cuál es el costo de cada camiseta?

P.O. _____

R: _____

3. Una familia gasta 1500 lempiras mensuales en alimentación, ¿cuánto gasta semanalmente? (1 mes = 4 semanas)

P.O. _____

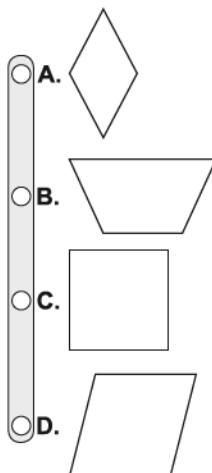
R: _____

4. Una finca de 2 manzanas produce 9500 libras de café, ¿cuántas libras produce por manzana?

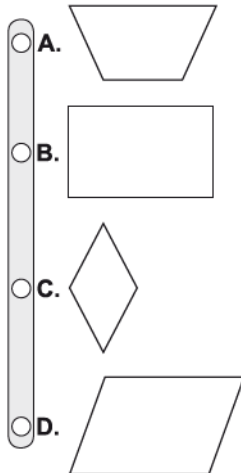
P.O. _____

R: _____

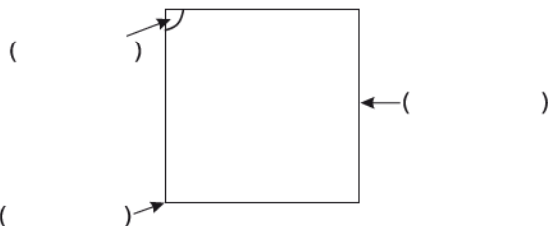
5. ¿Cuál figura es un cuadrado?



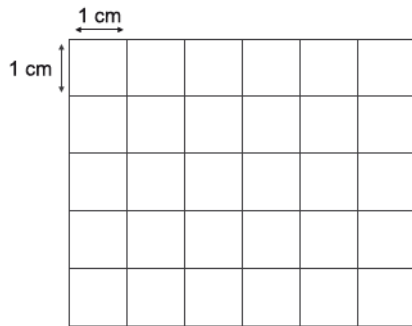
6. ¿Cuál figura es un rectángulo?



7. Escriba en los paréntesis los elementos que se indican en la figura.



8. Dibuje un rectángulo que mida 5 cm de largo por 3 cm de ancho.



9. ¿Cómo se lee el número 0.5?

- A. Cinco
- B. Cinco décimas
- C. Cinco centésimas
- D. Un quinto

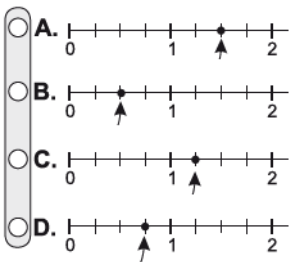
10. ¿Qué número tiene cinco unidades ocho décimas?

- A. 85.0
- B. 58.0
- C. 8.5
- D. 5.8

11. ¿Qué número es mayor que 7.4?

- A. 4.9
- B. 6.5
- C. 7.4
- D. 9.1

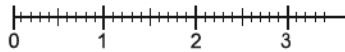
12. ¿En qué recta numérica está indicado 1.5?



13. ¿A qué es igual 1.3?

- A. 1 unidad, 3 décimas
- B. 1 decena, 3 unidades
- C. 13 unidades, 0 décimas
- D. 1 décima, 3 unidades

14. Señale con una flecha en la recta numérica la ubicación del número 1.8



15. ¿Cuál de las desigualdades es verdadera?

- A. $1.7 > 3.1$
- B. $2.3 > 3.1$
- C. $2.3 < 3.1$
- D. $3.1 < 1.7$

FIN DE LA PRUEBA

Tabla de resultados de la prueba
Julio - Tercer grado

Insatisfactorio	Debe Mejorar	Satisfactorio	Avanzado
0 - 19	20 - 29	30 - 38	39 - 45
<input type="radio"/>	<input type="radio"/>	<input type="radio"/>	<input type="radio"/>