

JULIO

Instrucciones:

Responda las preguntas relleno el círculo de la letra que corresponde a la respuesta correcta.

1. ¿Cuál es el resultado de redondear a décimas 73.47?

- A. 73.7
- B. 73.5
- C. 73.4
- D. 73.3

2. ¿Cuál es el resultado de redondear a décimas 951.59?

- A. 951.9
- B. 951.6
- C. 951.5
- D. 951.4

3. ¿Cuál es el resultado de redondear a centésimas 63.246?

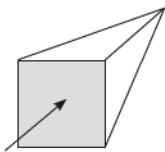
- A. 63.23
- B. 63.24
- C. 63.25
- D. 63.26

4. ¿Cuál es el resultado de redondear a milésimas 86.7937?

- A. 86.792
- B. 86.793
- C. 86.794
- D. 86.797

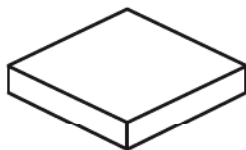
5. ¿Cuál es el elemento indicado en el sólido?

- A. Altura
- B. Vértice
- C. Arista
- D. Base



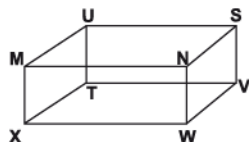
6. ¿Cuál es el número de caras laterales del sólido?

- A. 2
- B. 3
- C. 4
- D. 6



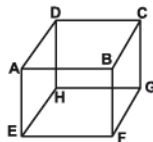
7. ¿Cuál es la cara paralela a la cara MUTX?

- A. MNWX
- B. NSVW
- C. USVT
- D. XTVW



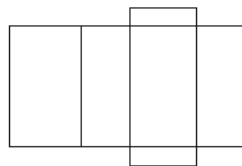
8. ¿Cuál es la cara perpendicular a la cara ADHE y que pasa por la arista AE?

- A. EHGF
- B. BCGF
- C. DCGH
- D. ABFE



9. ¿Cuál es el sólido que corresponde al patrón?

- A.
- B.
- C.
- D.



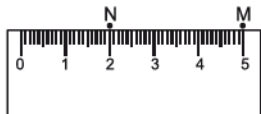
10. ¿Cuál es la distancia entre el punto A y B?

- A. 1 cm
- B. 2 cm
- C. 3 cm
- D. 4 cm



11. ¿Cuál es la distancia desde el punto N al punto M?

- A. 2 cm
 B. 3 cm
 C. 4 cm
 D. 5 cm



12. Para hacer un yoyo se utilizó una cuerda de 60 cm. ¿Cuántos milímetros mide la cuerda?

- A. 6 mm
 B. 60 mm
 C. 600 mm
 D. 6000 mm

13. Para hacer un chongo se utilizaron 80 cm de cinta. ¿Cuántos dm mide la cinta del chongo?

- A. 8 dm
 B. 80 dm
 C. 160 dm
 D. 800 dm

14. Karla compró 2 yardas de tela y Manuel compró 70 pulgadas de la misma tela. ¿Quién compró más tela?

P.O. _____ R: _____

15. Para hacer una instalación eléctrica Suyapa compró un alambre que mide 3 yardas 2 pies y Jacobo compró otro alambre que mide 13 pies. ¿Quién compró más alambre?

P.O. _____ R: _____

16. Para hacer el marco de un diploma se usaron 5 pies de moldura. ¿Cuántos centímetros de moldura se usaron?

P.O. _____ R: _____

17. Alberto mide 64 pulgadas de estatura y Julio mide 4 pies de estatura. ¿Cuántas pulgadas más mide Alberto que Julio?

P.O. _____ R: _____

FIN DE LA PRUEBA

Tabla de resultados de la prueba
Julio - Cuarto grado

Insatisfactorio	Debe Mejorar	Satisfactorio	Avanzado
0 - 22	23 - 32	33 - 44	45 - 51
<input type="radio"/>	<input type="radio"/>	<input type="radio"/>	<input type="radio"/>