

SEPTIEMBRE

Instrucciones:

Responda las preguntas rellenando el círculo de la letra que corresponde a la respuesta correcta.

1. La tabla muestra las calificaciones de Karla en 4 materias. ¿Cuál es el promedio de las calificaciones de Karla en las 4 materias?

Materia	Calificación %
Matemáticas	78
Español	84
Ciencias Naturales	72
Estudios Sociales	94

P.O. _____

R: _____

2. Juan caminó el lunes 5.6 km, el martes 3.8 km, y el miércoles 4.4 km. ¿Cuál es el promedio de kilómetros recorridos por día?

- A. 4.26
- B. 4.6
- C. 12.8
- D. 13.8

3. Una ganadera ordeñó 20 vacas el viernes, 30 vacas el sábado y 40 vacas el domingo. ¿Cuál es el promedio de vacas ordeñadas por día?

- A. 30
- B. 20
- C. 40
- D. 190

4. Un agricultor cosechó en el año 2003, 30 quintales de maíz; en el 2004, 40 quintales y en el 2005, 50 quintales. ¿Cuál es el promedio de quintales cosechado por año?

P.O. _____

R: _____

5. La tabla muestra el número de páginas leídas por Ana. ¿Cuántas páginas en promedio por día ha leído Ana?

Día	N° de página
Lunes	5
Martes	3
Miércoles	2
Jueves	4

P.O. _____

R: _____

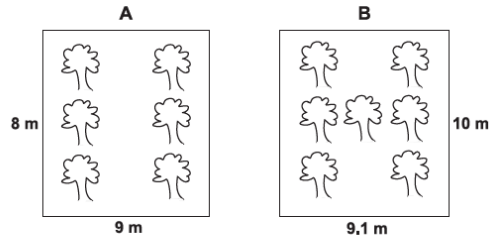
6. La tabla muestra las ventas diarias en una pulpería. Encuentre el promedio de ventas diarias.

Día	Venta en lempiras
Lunes	415
Martes	350
Miércoles	275
Jueves	360
Viernes	616
Sábado	824

P.O. _____

R: _____

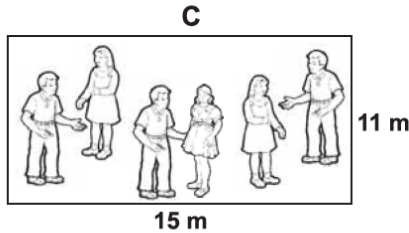
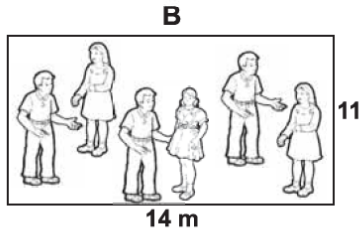
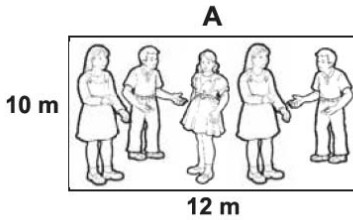
7. Considerando el área de cada terreno, ¿qué terreno está más lleno de árboles?



P.O. _____

R: _____

8. Considerando el área de cada lugar, ¿qué lugar está más lleno de personas?



P.O. _____

R: _____

9. La tabla muestra el área y el número de estudiantes de dos escuelas. Calcule el área por alumno en cada escuela. ¿Cuál escuela está más densamente poblada?

Escuela	Área (m ²)	N° de alumnos
Lempira	6300	700
Francisco Morazán	3750	500

P.O. _____

R: _____

10. La tabla muestra el área y el número aproximado de habitantes de dos departamentos de Honduras. Calcule la densidad poblacional de cada departamento. ¿Cuál departamento está más densamente poblado?

Departamento	Área (km ²)	N° de habitantes
Santa Bárbara	5100	380000
Comayagua	5200	400000

P.O. _____

R: _____

11. Juan cosechó 120 quintales de café en una finca de 9800 m² y Luis 190 quintales en una finca de 15300 m². ¿En cuál finca se cosechó más café por m²?

P.O. _____

R: _____

12. El carro de Elda recorrió 325 km con 6 galones de gasolina y el de Carolina 360 km con 7 galones de gasolina. ¿Cuál carro es más económico?

P.O. _____

R: _____

FIN DE LA PRUEBA

Tabla de resultados de la prueba
Septiembre - Sexto grado

Insatisfactorio	Debe Mejorar	Satisfactorio	Avanzado
0 - 15	16 - 23	24 - 32	33 - 36
○	○	○	○