

JUNIO

Instrucciones:

Responda las preguntas rellinando el círculo de la letra que corresponde a la respuesta correcta.

1. ¿Cuál es el número decimal que corresponde a $\frac{3}{2}$?

- A. 3.2
 B. 0.15
 C. 1.5
 D. 0.32

2. ¿Cuál es la fracción que corresponde al número 0.9?

- A. $\frac{10}{9}$
 B. $\frac{9}{10}$
 C. $\frac{9}{90}$
 D. $\frac{0}{90}$

3. ¿Cuál es la fracción que corresponde al número 15.7?

- A. $\frac{15}{70}$
 B. $\frac{157}{7}$
 C. $\frac{157}{10}$
 D. $\frac{1}{57}$

4. ¿Cuál es el número decimal que corresponde a $\frac{3}{5}$?

- A. 0.6
 B. 0.35
 C. 0.06
 D. 0.53

5. ¿Cuál es la fracción que corresponde al número 3.9?

- A. $\frac{3}{9}$
 B. $\frac{9}{3}$
 C. $\frac{39}{10}$
 D. $\frac{39}{100}$

6. ¿Cuál es la fracción que corresponde al número 5.7?

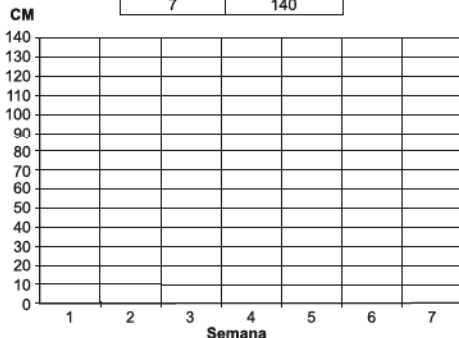
- A. $5\frac{7}{10}$
 B. $\frac{57}{100}$
 C. $5\frac{7}{100}$
 D. $\frac{5}{7}$

7. En una escuela se registró la cantidad de niños que no llegó a clases durante cinco días. El lunes faltaron 22, el martes 15, el miércoles 14, el jueves 9 y el viernes 27 niños. Organice estos datos en la tabla.

Día					
Alumnos					

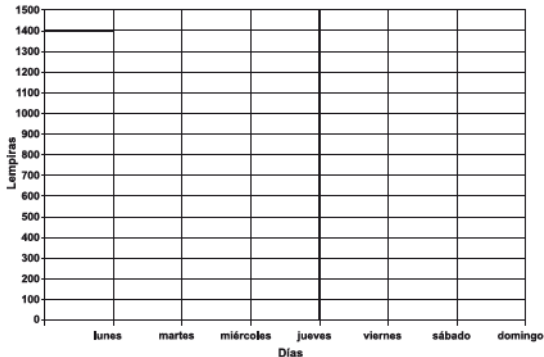
8. La tabla muestra el crecimiento de una planta de maíz durante siete semanas. Construya el gráfico lineal que corresponde.

Semana	Crecimiento en cm
1	5
2	15
3	30
4	45
5	70
6	110
7	140

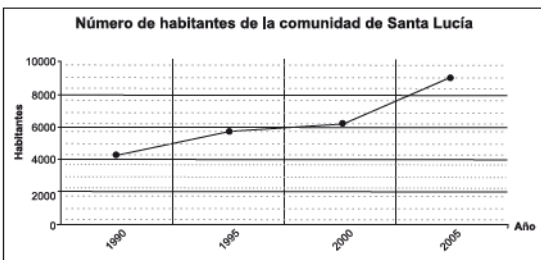


9. La siguiente tabla muestra las ventas en lempiras, que se realizaron en una pulpería durante siete días. Con esta información construya el gráfico lineal correspondiente.

Días	Ventas en Lps.
Lunes	900
Martes	750
Miércoles	600
Jueves	550
Viernes	1100
Sábado	1500
Domingo	800



10. De acuerdo con el gráfico, ¿cuántos habitantes tenía Santa Lucía en el año 2005?



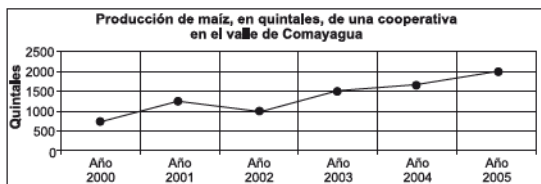
- A. 8050
- B. 10000
- C. 8000
- D. 9000

11. De acuerdo con el gráfico, ¿qué temperatura se registró en San Pedro Sula a las 4:00 pm?



- A. Entre 20 y 25 grados
- B. Más de 25 grados
- C. Entre 15 y 20 grados
- D. Menos de 15 grados

12. De acuerdo con la gráfica, ¿cuál fue la producción en el año 2001?



R: _____

FIN DE LA PRUEBA

**Tabla de resultados de la prueba
Junio - Quinto grado**

Insatisfactorio	Debe Mejorar	Satisfactorio	Avanzado
0 - 15	16 - 23	24 - 32	33 - 36
<input type="radio"/>	<input type="radio"/>	<input type="radio"/>	<input type="radio"/>