

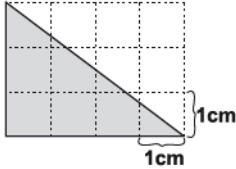
AGOSTO

Instrucciones:

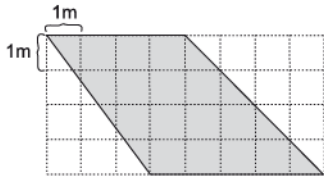
Responda las preguntas rellenoando el círculo de la letra que corresponde a la respuesta correcta.

1. ¿Cuál es el área del triángulo sombreado?

- A. 6 cm^2
- B. 7 cm^2
- C. 12 cm^2
- D. 24 cm^2



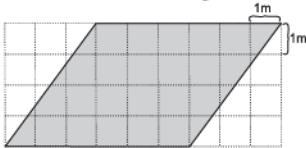
2. ¿Cuál es el área de la figura?



P.O. _____

R: _____

3. ¿Cuál es el área de la figura?



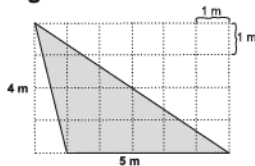
P.O. _____

R: _____

4. ¿Cuál es el área del triángulo?

P.O. _____

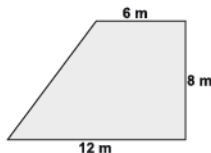
R: _____



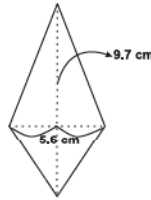
5. ¿Cuál es el área del trapecio?

P.O. _____

R: _____



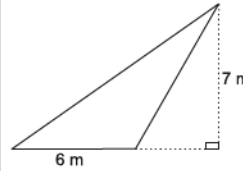
6. ¿Cuál es el área del rombo?



P.O. _____

R: _____

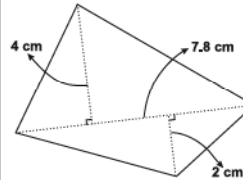
7. ¿Cuál es el área del triángulo?



P.O. _____

R: _____

8. ¿Cuál es el área de la figura?

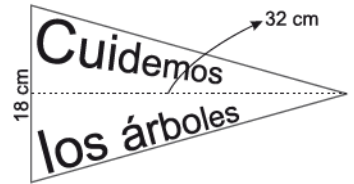


P.O. _____

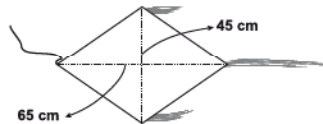
R: _____

9. ¿Cuál es el área del banderín?

- A. 25 cm^2
- B. 288 cm^2
- C. 50 cm^2
- D. 576 cm^2



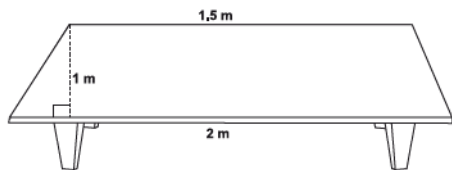
10. ¿Cuál es el área del papelote?



P.O. _____

R: _____

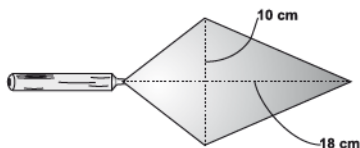
11. ¿Cuál es el área de la mesa?



P.O. _____

R: _____

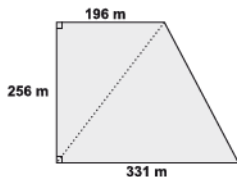
12. ¿Cuál es el área de la figura?



P.O. _____

R: _____

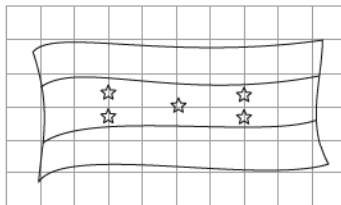
13. ¿Cuál es el área de un terreno que tiene la siguiente forma?



P.O. _____

R: _____

14. ¿Cuál es el área aproximada de la bandera?



P.O. _____

R: _____

FIN DE LA PRUEBA

Tabla de resultados de la prueba
Agosto - Quinto grado

Insatisfactorio	Debe Mejorar	Satisfactorio	Avanzado
0 - 18	19 - 26	27 - 35	36 - 42
○	○	○	○